


Задание 1

Реши зимние примеры.
Ответы вписывай
после знака "равно".

Томик




$4 + 2 = \square$



$2 + 3 = \square$



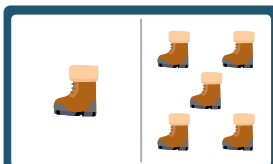
$2 + 1 = \square$



$1 + 1 = \square$



$6 + 3 = \square$







$1 + 5 = \square$

Коша



Задание 2

Повтори рисунки и раскрась их.



Привет-привет!

Томик и Коша живут на сказочной планете Коломбор на берегу лазурного океана в стране Алфаметика и продолжают вместе с тобой выполнять интересные задания.

Задание 3

Отгадай ребус.



Смотри все мультики на






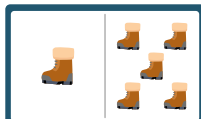
WWW.KOLOMBOR.RU



Мы есть во всех соцсетях по запросу «Коломбор»

Ответы

Задание 1


$$4 + 2 = 6$$

$$2 + 3 = 5$$

$$2 + 1 = 3$$

$$1 + 1 = 2$$

$$6 + 3 = 9$$

$$1 + 5 = 6$$

Задание 3

Подарок