

## Задание 1

Сложи цифры на монетах в каждом кошельке и соедини линиями с продуктами на которых соответствующие ценники.











10      12      16      15

А      Б      В      Г

1      2      3      4

## Задание 2

Реши примеры с ягодами и фруктами.

	+		=	А
	+		=	Б
	+		=	В
	+		=	Г
	+		=	Д

2      3      6      8      9

ТОМИК



КОША



## **Ответы**

### **Задание 1**

А-2

Б-4

В-1

Г-3

### **Задание 2**

А-14

Б-11

В-9

Г-10

Д-12