

Задание 1


Сложи цифры на монетах в каждом кошельке и соедини линиями с игрушками на которых соответствующие ценники.




А 0



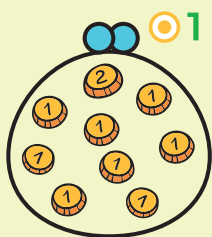
Б 0



В 0



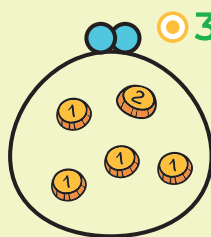
Г 0



0 1



0 2



0 3



0 4

Задание 2

Сосчитай сколько фруктов и ягод на картинке.



ТОМИК



	=	А	...
	=	Б	...
	=	В	...
	=	Г	...
	=	Д	...



КОША



Ответы

Задание 1

А-4

Б-3

В-2

Г-1

Задание 2

А-2

Б-2

В-3

Г-3

Д-5